

## کشور ایران در کدام فلات قرار دارد ؟

### هدف کلی :

آشنایی با فلات ایران

### اهداف جزئی :

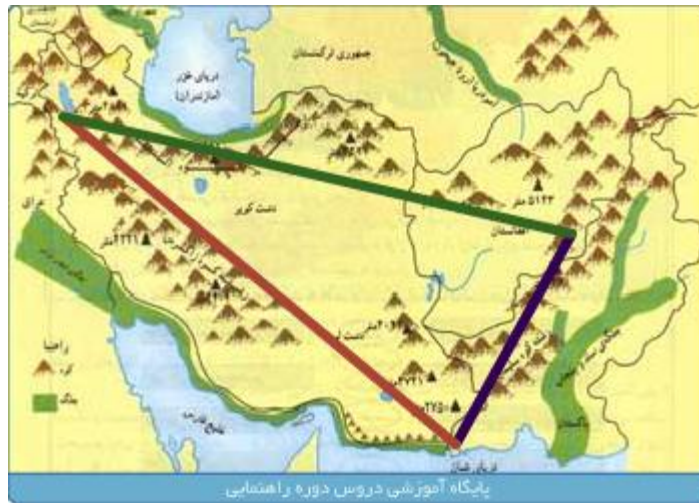
آشنایی با شکل هندسی فلات ایران  
شناخت رشته کوههای لبه ی فلات ایران  
شناخت سرزمین های پست داخل و اطراف فلات ایران  
آشنایی با نحوه ی تشکیل جلگه آبرفتی  
آشنایی با تعریف جلگه

به نقشه ی شماره ی ۹ توجه کنید .



فلات شبیه به یک مثلث نشان داده شده است . در امتداد ضلع های مثلث فلات ایران بیشتر کدام پدیده ها را مشاهده می کنیم ؟  
بلی رشته کوه های بلند .

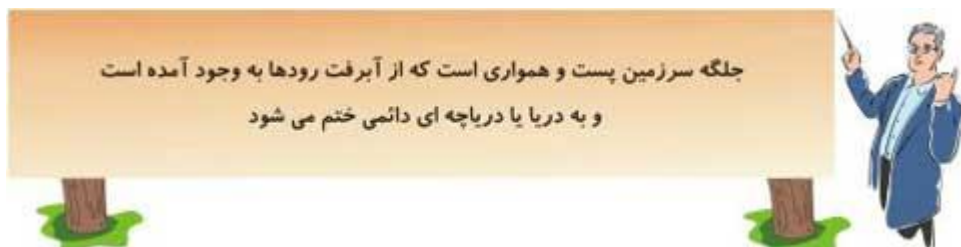
رشته کوههای البرز در امتداد شمال  
رشته کوههای زاگرس در امتداد مغرب به جنوب شرقی  
رشته کوه سلیمان در مشرق



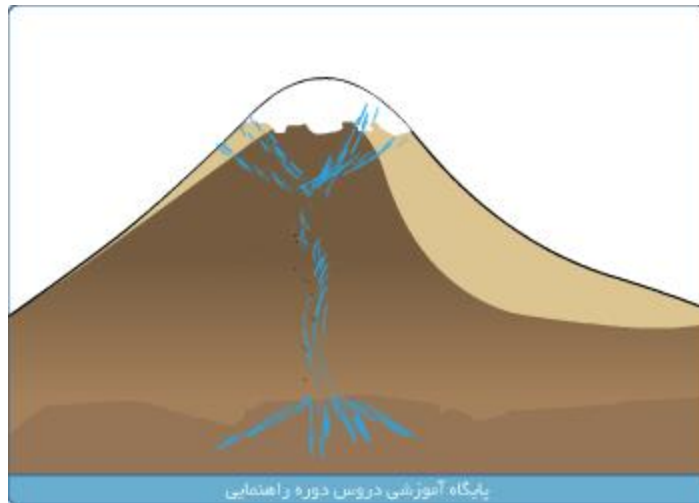
دشت لوت و دشت کویر از جمله مناطق وسیع و پست داخل فلات ایران هستند .



آیا می دانید جلگه چیست ؟



می هنگامی که رودها از رشته کوههای بلند جاری می شوند ، آبرفت هایی را با خود همراه آورند که از آبرفت آنها با گذشت زمان جلگه ها پدید می آیند .



**رود** : آبی است که در یک مجرا یا دره طبیعی از به هم پیوستن جویبارها و ذوب شدن برفها و یا از به هم پیوستن چشمه ها تشکیل می شود . رود اگر در تمام سال جریان داشته باشد دائمی و اگر مدتی از سال جریان داشته باشد به آن فصلی می گویند . طولانی ترین رود دنیا رود نیل با ۶۶۷۱ کیلومتر طول می باشد .

آدرس لینک صفحه : [www.amouzeshelmi.ir/joghrafi/1/04/joghrafi-1-4.htm](http://www.amouzeshelmi.ir/joghrafi/1/04/joghrafi-1-4.htm)

اجرا و پشتیبانی توسط مؤسسه فناوری اطلاعات کاشف