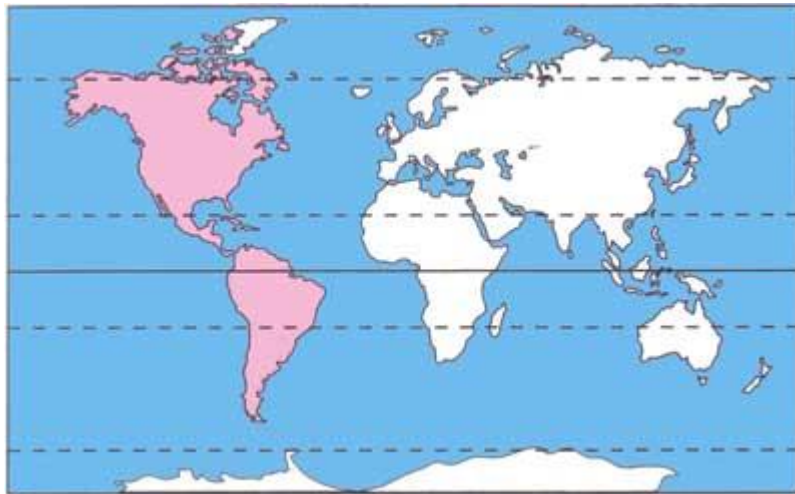


قاره ی آمریکا کجا ست؟

دانش آموز گرامی به نقشه ی موقعیت قاره ی آمریکا توجه کنید .

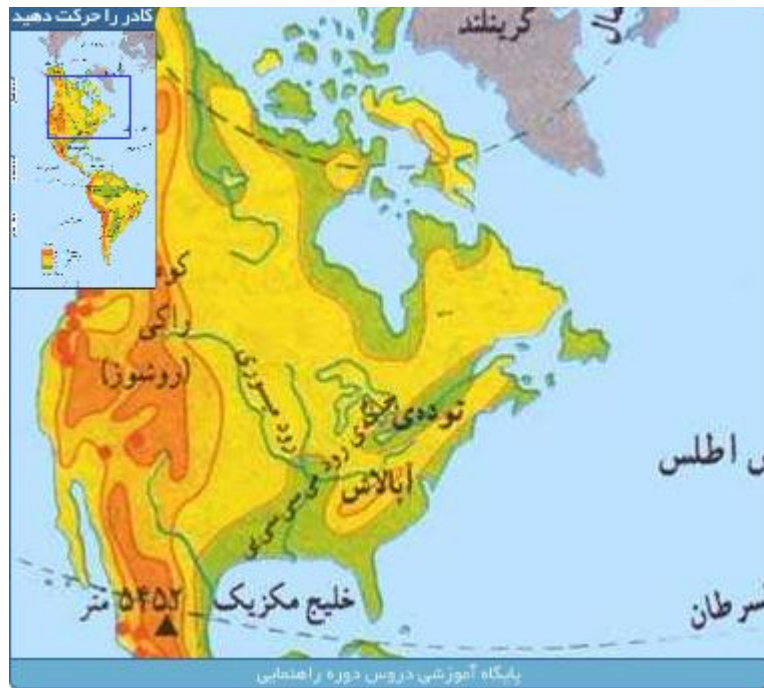


به قاره ی آمریکا «**بر جدید**» و به سه قاره دیگر «**بر قدیم**» می گویند .

موقعیت قاره ی آمریکا :

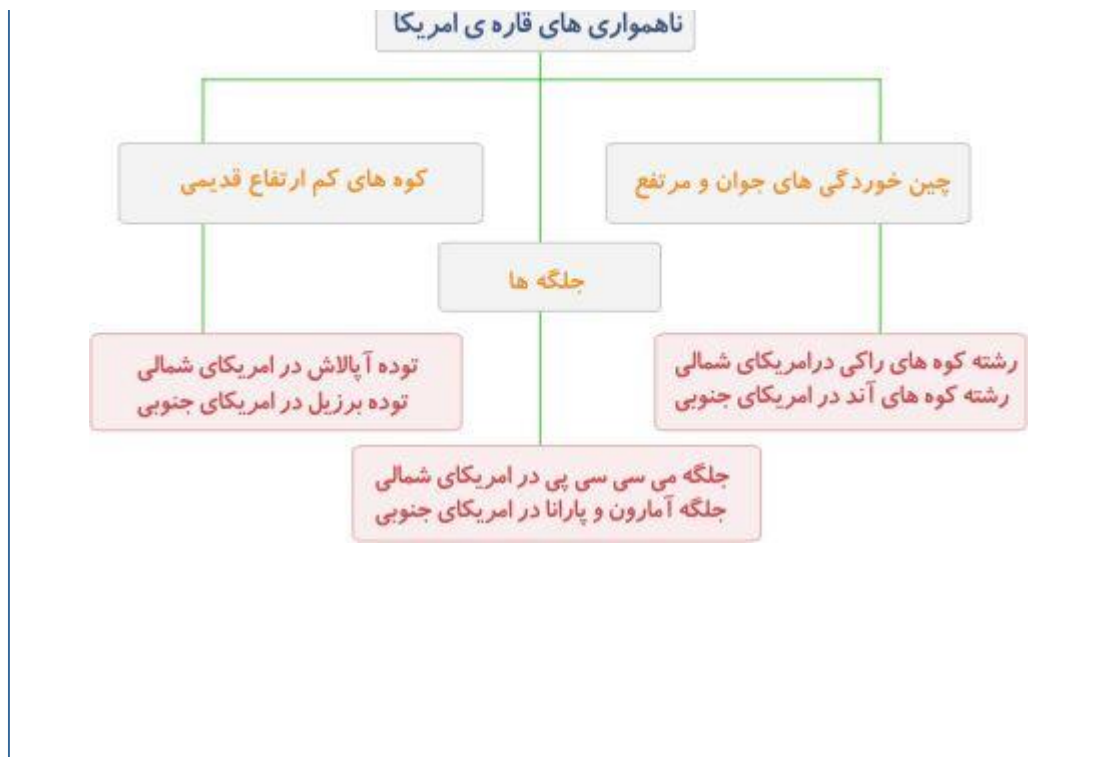
قاره ی آمریکا از قطب شمال تا نزدیکی قطب جنوب کشیده شده است و به دو تکه ی تقریباً مساوی تقسیم شده است. آمریکای شمالی و آمریکای جنوبی . این دو قسمت به وسیله ی آمریکای مرکزی به یکدیگر متصلند .

به نقشه مقابل توجه کنید و محل هر یک از پدیده های جغرافیایی روی آن را به خاطر بسپارید .



اکنون به محل هر یک از پدیده های جغرافیایی زیر دقت کنید .





آدرس لینک صفحه : www.amouzeshelmi.ir/joghrafi/2/17/joghrafi-2-17.htm

اجرا و پشتیبانی توسط مؤسسه فناوری اطلاعات کاشف